

При выполнении заданий с кратким ответом впишите в поле для ответа цифру, которая соответствует номеру правильного ответа, или число, слово, последовательность букв (слов) или цифр. Ответ следует записывать без пробелов и каких-либо дополнительных символов. Имена правителей в заданиях с кратким ответом необходимо указывать словами: Пётр Первый или Пётр Великий, но не Пётр I или Пётр I.

В заданиях, где нужно установить соответствие между двумя столбцами, ответ запишите в виде сочетания букв и цифр, соблюдая алфавитную последовательность букв левого столбца. Некоторые данные правого столбца могут использоваться несколько раз или не использоваться вообще. Например: А1Б1В4Г2.

Если вариант задан учителем, вы можете вписать или загрузить в систему ответы к заданиям с развернутым ответом. Учитель увидит результаты выполнения заданий с кратким ответом и сможет оценить загруженные ответы к заданиям с развернутым ответом. Выставленные учителем баллы отобразятся в вашей статистике.

1. Определите металл, который первым начали использовать древние люди на территории Беларуси:

- 1) серебро 2) золото 3) медь 4) алюминий

2. Укажите имя полоцкого князя, который в XI в. временно занимал великокняжеский престол в Киеве:

- 1) Давид 2) Борис 3) Изяслав 4) Всеслав

3. Определите последовательность событий:

А — высылка киевским князем Мстиславом полоцких князей в Византию

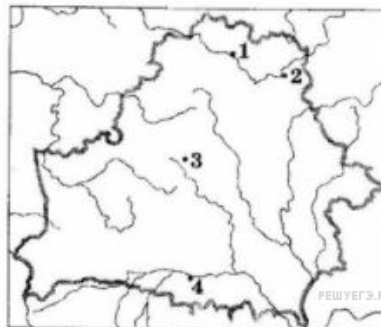
Б — крещение Руси

В — завоевание Юрием Ярославичем независимости Турова от Киева

Г — княжение Всеслава Брючиславича в Полоцке

- 1) ВАБГ 2) БВГА 3) АБВГ 4) БГАВ

4. Город, где был найден памятник письменности XIII—XIV вв., представленный на иллюстрации, обозначен на картосхеме цифрой:

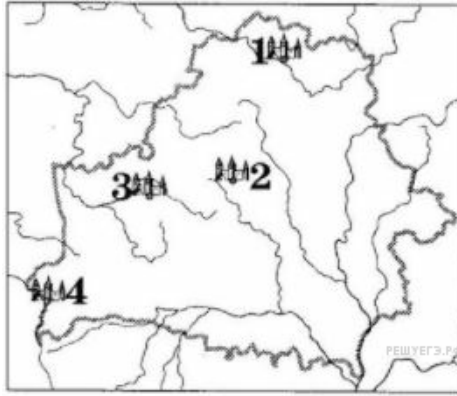


- 1) 1 2) 2 3) 3 4) 4

5. Определите имя князя, который стал первым называть себя королем белорусско-литовского государства:

- 1) Витень 2) Ольгерд 3) Миндовг 4) Александр

6. Город, в котором в 1253 г. произошла коронация Миндовга, обозначен на картосхеме цифрой:



- 1) 1 2) 2 3) 3 4) 4

7. Выступления мещан на территории ВКЛ в первой половине XVII в. чаще всего были вызваны:

- 1) лишением мещан политических прав
- 2) запрещением деятельности ремесленных цехов
- 3) злоупотреблениями членов магистрата
- 4) насильственным переселением в другие города

8. Аль-Китабы (священные книги) белорусских татар написаны с использованием арабского алфавита на языке:

- 1) церковнославянском 2) турецком 3) белорусском
- 4) русском

9. В политической системе Речи Посполитой за ВКЛ и Польшей сохранился(-ась, -ась) отдельный(-ое, -ая):

- 1) монарх 2) законодательство 3) сейм (сойм)
- 4) внешняя политика

10. Реформация на землях Беларуси в XVI в. способствовала:

- 1) распространению просвещения и книгопечатания
- 2) укреплению авторитета православной церкви
- 3) распространению атеизма и религиозной нетерпимости
- 4) ослаблению феодального угнетения

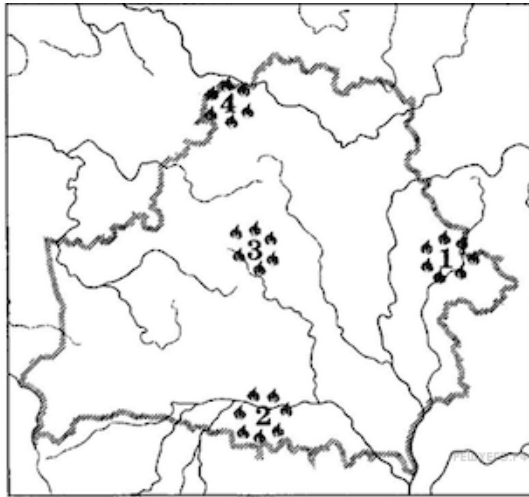
11. Социальные категории «похожие» и «непохожие» в ВКЛ в XV — первой половине XVI в. относились к:

- 1) мещанам 2) шляхте 3) купцам 4) крестьянам

12. Определите событие, которое произошло последним из перечисленных:

- 1) окончание казацко-крестьянской войны
- 2) основание Виленской иезуитской академии
- 3) восстание под руководством Т. Костюшко
- 4) принятие III Статута ВКЛ

13. Крестьянское восстание под руководством В. Ващицы в 1740—1744 гг. произошло в районе, который обозначен на картосхеме цифрой:



- 1) 1 2) 2 3) 3 4) 4

14. Сопратник Т. Костюшко (см. портрет), поэт, инженер-полковник, представитель «якобинского» течения в восстании 1794 г., погиб при штурме Варшавы войсками А. Суворова — это:



- 1) В. Ващица 2) С. Наливайко 3) Я. Ясинский
4) В. Врублевский

15. Для политики царского правительства на белорусских землях в конце XVIII — 20-х гг. XIX в. было характерно:

- 1) окончательное упразднение Статута ВКЛ 1588 г.;
- 2) предоставление шляхте прав российского дворянства;
- 3) упразднение католической церкви;
- 4) сохранение магдебургского права в городах.

16. После войны 1812 г. в белорусских губерниях были(-о):

- 1) ликвидированы военные поселения
- 2) отменены налоги в пользу государства
- 3) сохранены крепостнические порядки
- 4) возобновлено магдебургское право в городах

17. Определите характерную черту развития промышленности на территории Беларуси в первой половине XIX в.:

- 1) преобладание предприятий тяжелой промышленности
- 2) ускоренные темпы развития промышленности
- 3) концентрация промышленных предприятий в крупных городах
- 4) преимущественное использование на предприятиях труда крепостных крестьян

18. Определите одну из причин первой российской революции 1905—1907 гг.:

- 1) участие России в Первой мировой войне
- 2) влияние революционных событий в западноевропейских странах
- 3) необходимость проведения буржуазно-демократических реформ
- 4) несоблюдение правительством положений Конституции

19. Город на территории Беларуси, защита которого российской армией во время Первой мировой войны продолжалась 810 дней, — это:

- 1) Барановичи; 2) Полоцк; 3) Могилев; 4) Сморгонь.

20. Класс (общественная группа людей) наемных рабочих, которые лишены собственности на орудия труда, — это:

- 1) пролетариат 2) крестьянство 3) буржуазия
4) купечество

21. Заключение Брестского мирного договора 1918 г. было ускорено:

- 1) намерением Германии поддержать Белорусскую Народную Республику
2) победой буржуазно-демократической революции в Германии и выходом ее из войны
3) требованиями со стороны представителей Антанты
4) захватом германскими войсками более 2/3 территории Беларуси

22. Укажите фамилию художника конца XIX — начала XX в., открывшего в Витебске частную художественную школу, в которой некоторое время учился М. Шагал, автора представленной на иллюстрации картины:



- 1) П. Шейн 2) Ф. Жданович 3) И. Буйницкий
4) Ю. Пэн

23. Определите характерные черты новой экономической политики (нэп), которая проводилась в БССР с 1921 г.:

- а — введение уравнительной системы оплаты труда
б — замена продразверстки продналогом
в — создание машинно-тракторных станций
г — разрешение аренды земли и использования наемного труда

- 1) а, б 2) б, в 3) а, в 4) б, г

24. Определите одну из характерных черт общественно-политической жизни БССР в 1930-е гг.:

- 1) утверждение однопартийной политической системы
2) проведение выборов на альтернативной основе
3) использование принципа гласности в работе партийных органов
4) реабилитация жертв политических репрессий

25. Первая Конституция Советской Социалистической Республики Беларуси (ССРБ) была принята в:

- 1) 1919 г. 2) 1922 г. 3) 1925 г. 4) 1927 г.

26. Определите событие, которое произошло первым из перечисленных:

- 1) карательная операция гитлеровцев против жителей деревни Хатынь
2) освобождение города Витебска от гитлеровских войск
3) первый этап «рельсовой войны»
4) создание партизанского отряда «Красный Октябрь» под руководством Т. Бумажкова и Ф. Павловского

27. Итогом проведения индустриализации в СССР являлось:

- 1) восстановление экономики после мирового кризиса 1929—1933 гг.
2) установление тесных научно-технических связей с зарубежьем

- 3) превращение советского государства в одну из ведущих индустриальных держав мира
- 4) формирование рыночной экономики

28. Оккупация — это:

- 1) захват войсками одного государства территории или части территории другого государства, который, как правило, сопровождается установлением собственной администрации и законов
- 2) вооруженная борьба за государственную власть внутри одной страны между разными социальными группами
- 3) перевод вооруженных сил государства из мирного состояния в боевую готовность
- 4) принудительное присоединение одним государством территории другого государства

29. Определите правильное утверждение:

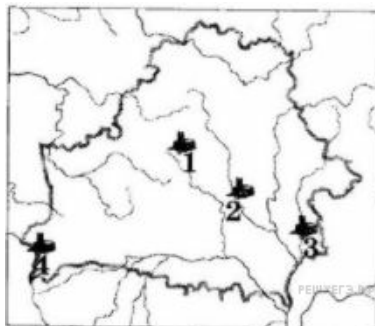
- 1) в феврале 1942 г. была создана Ставка Главного Командования
- 2) операция «Багратион» была завершена в апреле 1945 г.
- 3) командующим 1-м Белорусским фронтом во время операции «Багратион» являлся К. Рокоссовский
- 4) 20 июня 1942 г. было создано минское гетто

30. Памятник, который показан на фотографии, — это:



- 1) Курган Славы Советской Армии — освободительницы Беларуси
- 2) памятник советскому воину в Трептов-парке в Берлине
- 3) мемориальный комплекс «Буйничское поле»
- 4) Монумент Победы в Минске

31. Город, где в БССР в годы 8-й пятилетки был построен электроламповый завод, обозначен на картосхеме цифрой:



- 1) 1 2) 2 3) 3 4) 4

32. Общественно-политическая жизнь БССР во второй половине 1960-х — первой половине 1980 х гг. характеризовалась:

- 1) формированием многопартийной политической системы
- 2) реальным полновластием Советов народных депутатов
- 3) возобновлением свободной деятельности церкви
- 4) принятием «Конституции развитого социализма»

33. Определите правильное утверждение:

- 1) темы проведения индустриализации и коллективизации стали определяющими в творчестве М. Савицкого
- 2) белорусское искусство во второй половине 1960-х — первой половине 1980-х гг. освободилось из-под контроля Коммунистической партии
- 3) Н. Борисевич и М. Мацепуро стали первыми белорусскими летчиками-космонавтами
- 4) в условиях замедления темпов экономического развития республики в 1980-е гг. снизилась эффективность белорусской науки

34. Принятие на республиканском референдуме новой редакции Конституции Республики Беларусь с изменениями и дополнениями произошло в:

- 1) 1991 г.
- 2) 1996 г.
- 3) 1999 г.
- 4) 2006 г.

35. Принятие новой редакции Конституции Республики Беларусь с изменениями и дополнениями состоялось в:

- 1) 1991 г.
- 2) 1994 г.
- 3) 1996 г.
- 4) 1999 г.

36. Определите главную причину перестройки экономики БССР в середине 1980-х гг.:

- 1) быстрый рост городского населения
- 2) угроза отставания экономики от достижений НТР
- 3) ликвидация военно-промышленного комплекса
- 4) распад Советского Союза

37. Для социально-экономического развития Республики Беларусь на современном этапе характерен(-на, -но):

- 1) демонтаж колхозно-совхозного производства
- 2) запрет использования частного капитала в торговле
- 3) тесная экономическая интеграция со странами СНГ
- 4) приоритетное финансирование военно-промышленного комплекса

38. Укажите фамилию писателя, автора трилогии «Полесская хроника»:

- 1) И. Мележ;
- 2) М. Пташук;
- 3) Ж. Алферов;
- 4) В. Коваленок.

39. Установите соответствие.

ОПРЕДЕЛЕНИЕ

- А) поселение ремесленников и торговцев, которое размещалось возле укрепленного центра города
- Б) укрепленное поселение, которое возникло в конце бронзового — начале раннего железного века
- В) место поселения первобытного человека
- Г) укрепленный центр средневекового восточнославянского города

ПОНЯТИЕ, НАЗВАНИЕ

- 1) стоянка
- 2) городище
- 3) дегинец
- 4) посад

Ответ запишите в виде сочетания букв и цифр, соблюдая алфавитную последовательность букв левого столбца. Например: А2Б3В1Г4.

40. Установите последовательность событий.

- А) Принятие II Статута ВКЛ
- Б) принятие Судебника Казимира
- В) перенос столицы ВКЛ в Вильну
- Г) выступление М. Глинского против верховной власти

Ответ запишите в виде сочетания букв. Например: ВАГБ.

41. Грюнвальдская битва между объединенными силами ВКЛ и Польши и войсками Тевтонского ордена произошла в ... году.

42. Запишите название земельной меры и единицы обложения крестьян налогами и повинностями, введенной согласно аграрной реформе 1557 г.

43. Установите соответствие.

ПРОИЗВЕДЕНИЕ	АВТОР
А) «Прощание с Родиной»	1) М. Смотрицкий
Б) «Великое искусство артиллерии»	2) А. Нарушевич
В) «История польского народа»	3) М. К. Огинский
Г) «Грамматика»	4) К. Семенович

Ответ запишите в виде сочетания букв и цифр, сохраняя алфавитную последовательность букв левого столбца. Например: А2БЗВ1Г4.

44. Установите соответствие между элементами двух множеств (история Беларуси 1920—1930-х гг.).

- | | |
|--|---|
| А) проведение сплошной коллективизации | 1) отмена трудовых мобилизаций |
| Б) нахождение Западной Беларуси в составе Польши | 2) «год великого перелома» |
| В) введение новой экономической политики | 3) формирование белорусской советской интеллигенции |
| Г) проведение политики белорусизации | 4) расселение осадников |

Ответ запишите в виде сочетания букв и цифр, соблюдая алфавитную последовательность букв левого столбца. Например: А2БЗВ1Г4.

45. Горы-Горецкий земледельческий институт был образован в ... году.

46. Установите последовательность событий.

- А) Роспуск большевиками I Всебелорусского съезда
- Б) подписание Брестского мирного договора
- В) завершение польско-советской войны
- Г) создание Литовско-Белорусской ССР (Литбел)

Ответ запишите в виде сочетания букв. Например: ВАГБ.

47. Установите последовательность событий.

- А) Принятие «Конституции развитого социализма» в СССР
- Б) авария на Чернобыльской АЭС
- В) начало проведения экономической реформы А. Косыгина
- Г) попытка государственного переворота в СССР (августовский путч)

Ответ запишите в виде сочетания букв. Например: ВГАБ.

48. I Всебелорусский съезд Советов Советской Социалистической Республики Беларуси состоялся в ... году.

49. Восстановление доброго имени и прав невинно осужденных — это

50. Прочитайте выдержку из документа и запишите имя князя, о котором сообщается в тексте.

«Начал княжить в Литве... учинил себе герб и всему княжеству Литовскому печать — вооруженный рыцарь на коне с мечом, что теперь называют “Погоня”».